

Konal(a) zkoušku

Vyloučen(a)

Nepřítomen(na) či nedokončil(a)

# MATEMATIKA 7

List 1 ze 2

Jméno a  
příjmení

Evidenční  
číslo

## DIDAKTICKÝ TEST - STRANA 1-4

1

2

3

Uvedte postup řešení.

3.1

3.2

4

4.1

4.2

5

5.1

5.2

6

6.1

6.2

6.3

7

7.1

7.2

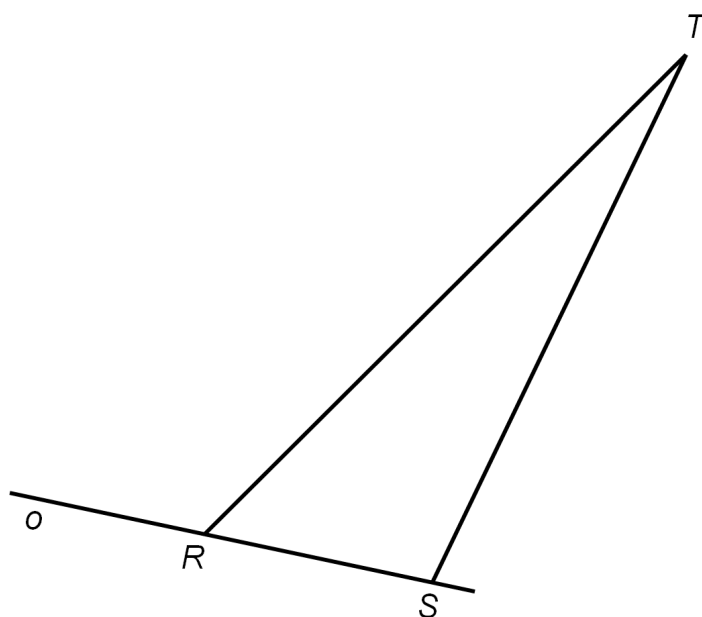
8

Uvedte postup řešení.

9

Uvedte postup řešení.

10 Obtáhněte všechny čáry, kružnice nebo jejich části propisovací tužkou.



11 A N

11.1

11.2

11.3

12 A N

12.1

12.2

12.3

A B C D E

13

14

15

16 A B C D E F

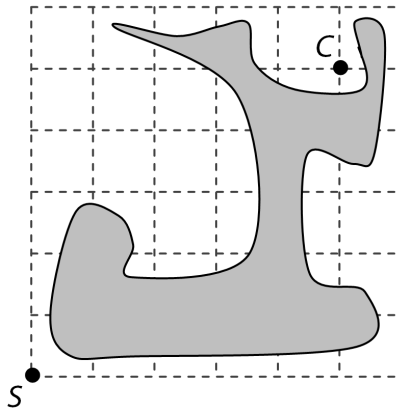
16.1

16.2

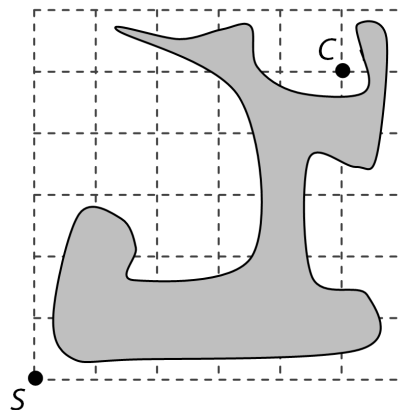
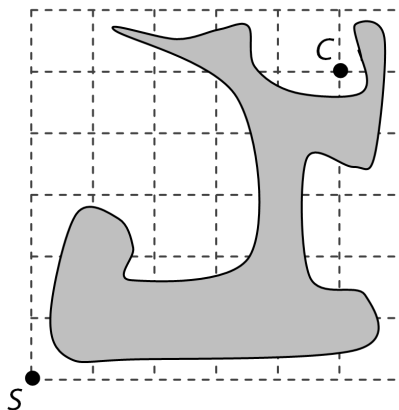
16.3

17 Zakreslete požadované cesty propisovací tužkou.

17.1



17.2



17.3